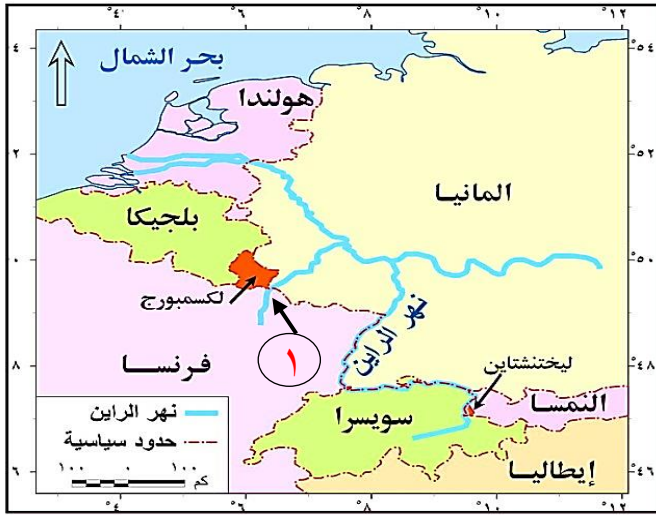


أجب حسب المطلوب:

- ١ - متابعة العالم لفاعليات مؤتمر تغير المناخ COP27 لحظياً يؤكد أهمية تقنية.....
(أ) نظام تحديد المواقع العالمي GPS
(ب) نظم المعلومات الجغرافية GIS
(ج) وسائل الاتصالات الحديثة
(د) الاستشعار من بُعد

- ٢ - ادرس الخريطة المقابلة ثم استنتج:
الرقم (١) بالخريطة يشير إلى أحد روافد نهر الراين



- وقد يشير مشكلة في.....
(أ) الحدود السياسية
(ب) الملاحة النهرية
(ج) صيد الأسماك
(د) اقتسام المياه

- ٣ - دولة تتوقع أن تمتد مياهها أكثر من ١٢ ميل بحري.....
(أ) جيبوتي
(ب) العراق
(ج) جنوب إفريقيا
(د) السودان

- ٤ - "أهمية مساحة الدولة لا تقاس بالكيلو مترات المربعة"
الدولة التي تؤكد صحة العبارة السابقة هي.....
(أ) روسيا الاتحادية.
(ب) فرنسا.
(ج) الولايات المتحدة الأمريكية.
(د) كندا.

- ٥ - " مصر - اليابان - ألمانيا" مجموعة دول تتشابه في.....
(أ) هجرة العقول.
(ب) المستوى التكنولوجي.
(ج) ظهور المبدعين.
(د) الخصائص الاثنوغرافية.



اختبار تجريبي
الجغرافيا الصف الثالث الثانوي



- ٦ - ينطبق مفهوم الأمة على أي المنظمات التالية.....
(أ) الأغذية والزراعة (الفاو)
(ب) الأمم المتحدة
(ج) اليونيدو
(د) جامعة الدول العربية
- ٧ - الدولة التي قد تتشابه مع روسيا الاتحادية في علاقاتها الدولية بفضل المساحة.....
(أ) الولايات المتحدة الأمريكية
(ب) نيوزيلاندا
(ج) بلجيكا
(د) الكونغو
- ٨ - تخشى بعض الدول من التنوع الثقافي مما جعلها تفرض قيودًا على بعض الأقليات بها
كما ظهر في دولة.....
(أ) استراليا.
(ب) إيطاليا.
(ج) العراق.
(د) سويسرا.
- ٩ - توفير المعلومات اللازمة لاتخاذ القرارات السياسية والعسكرية يستفيد منها.....
(أ) رجال الأعمال
(ب) الجغرافيين
(ج) رجال السياسة
(د) الإعلاميين
- ١٠ - ما العلاقة بين انتصار الرأسمالية وظهور الأقليات القومية؟
.....
.....
.....
- ١١ - يرجع نجاح دولة الإمارات العربية المتحدة في إقامة مؤتمرات عالمية إلى.....
(أ) القوة التنظيمية.
(ب) القوة المورفولوجية.
(ج) القوة العسكرية.
(د) القوة الديموغرافية.
- ١٢ - تفصل جبال طوروس بين دولتي سوريا جنوبًا وتركيا شمالًا وهو ما يتشابه
مع الحد الفاصل بين دولتي.....
(أ) شيلي والأرجنتين.
(ب) أوغندا وكينيا.
(ج) فرنسا وإسبانيا.
(د) الهند وباكستان.

١٣ - بدراسة الخريطين المقابلتين استنتج:

الدولة التي قامت برسم الحدود السياسية بين مصر والسودان، هي:



خريطة إفريقيا
عام ٢٠١٥ م



خريطة إفريقيا
قبل الحرب العالمية الأولى

(أ) ألمانيا.

(ب) إنجلترا.

(ج) فرنسا.

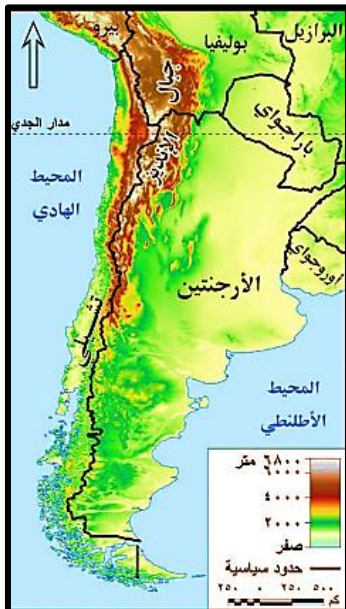
(د) إيطاليا.

١٤ - أحد الجوانب التي تتميز بالتغير المستمر ويظهر من خلال خريطة العالم السياسية.....

(ب) المناخى
(د) المورفولوجى

(أ) التضاريسى
(ج) الديموغرافى

١٥ - حال إعلان تونس خروجها من اتحاد المغرب العربي فإن ذلك يعني.....
(أ) فقد التكتل المقوم الجغرافى
(ب) فقد تكتل بعض الدول المجاورة له
(ج) تأثر التكتل ديموغرافياً
(د) تأثر التكتل إثنوغرافياً



١٦ - قد تعاني دولة شيلي من بطء حركة التنمية

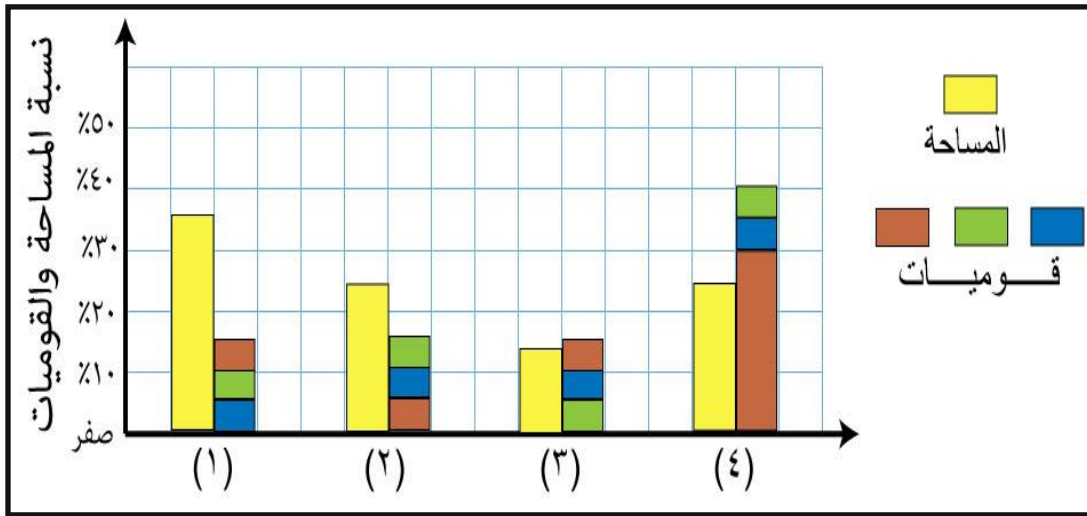
في أطرافها الجنوبية بسبب

(أ) الشكل.
(ب) المساحة.

(ج) الغطاء النباتى.
(د) الموقع البحرى.

- ١٧- دولة يمثل الرصيف القاري بها مصدر للدخل القومي، هي:
- (أ) أوغندا
(ب) بلجيكا
(ج) إثيوبيا
(د) سويسرا

- ١٨- أمامك شكل بياني لدولة متعددة القوميات إدرسه جيداً، وفي ضوء دراستك لعوامل اختيار العاصمة استنتج: أي المناطق يتم اختيارها كموقع للعاصمة



- (أ) ١
(ب) ٢
(ج) ٣
(د) ٤

- ١٩- النهر الذي يخرج عن اتفاقيات الأنهار الدولية، هو نهر
- (أ) الريوجراند
(ب) الراين
(ج) السين
(د) الدانوب

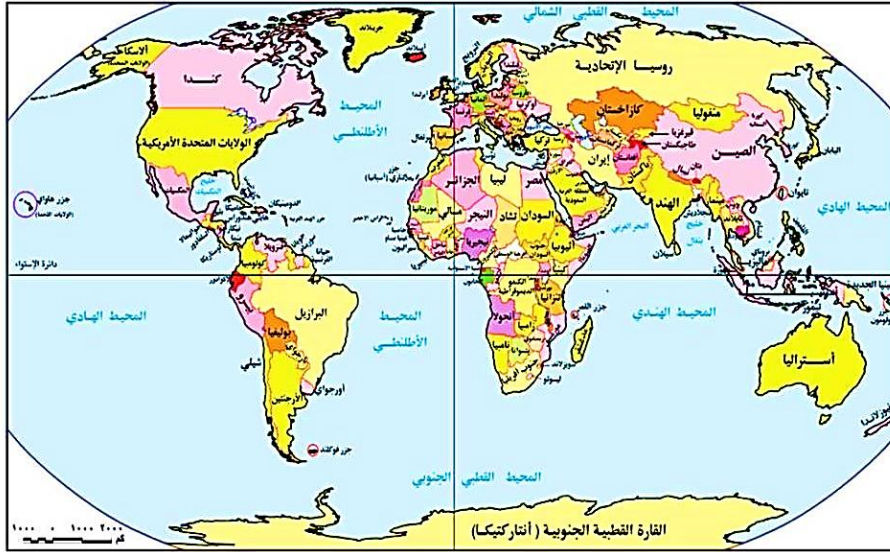
- ٢٠- "تتعدد النزاعات السياسية الناجمة عن حركة الرعاة على الحدود". في ضوء العبارة السابقة استنتج العامل الذي أدى إلى حدوث نزاعات سياسية داخل الدولة الواحدة هو
- (أ) رسم الحدود السياسية.
(ب) التغيرات المناخية.
(ج) الرسوم الجمركية.
(د) النمو السكاني.

- ٢١- الداعم الأول لحل مشكلات الحدود بين دول شرق إفريقيا هو
- (أ) الناقتا
(ب) إبيك
(ج) اتحاد المغرب العربي
(د) الكوميسا

- ٢٢- التكتل الاقتصادي الذي حقق أكبر استفادة من التركيب النوعي لسكانه، هو:
- (أ) الاتحاد الأوروبي.
(ب) الإيكواس.
(ج) الكوميسا.
(د) مجلس التعاون لدول الخليج العربي.

٢٣ - ادرس الخريطة التي أمامك، ولاحظ أن دولة سوريا تطل على البحر المتوسط بجهة ساحلية واحدة وهو ما يتشابه

مع دولة



- (أ) كينيا
(ب) المغرب
(ج) جنوب إفريقيا
(د) مصر

- ٢٤- أدى انتهاء الصراع الأيديولوجي إلى زيادة عدد الوحدات السياسية المشرفة على
- (أ) بحر الشمال.
(ب) بحر قزوين.
(ج) بحر العرب.
(د) البحر الأحمر.

- ٢٥- تتميز الحدود السياسية عن التخوم كونها
- (أ) مناطق ممسوحة.
(ب) غنية بالموارد الطبيعية.
(ج) ذات عمق جغرافي.
(د) ظاهرة ثابتة.

- ٢٦ - التكتل الاقتصادي الذي قد يتخلص من إحدى مشكلاته الاجتماعية حال رفع مستوى رفاهية المواطنين بجنوب شرق آسيا
- (أ) مجلس التعاون لدول الخليج العربي.
(ب) الاتحاد الأوروبي.
(ج) الناقتا.
(د) الإبيك.

٢٧- "الاتحاد الكونفدرالي نموذج هش للاتحادات المركبة اللامركزية". ما مصداقية العبارة السابقة؟

.....

.....

.....

٢٨- تُعد مشكلة التخلف التي فرضها الاستعمار على بعض الدول أحد أنواع المشكلات
(أ) السياسية ذات البُعد الاجتماعي. (ب) الاقتصادية ذات البُعد السياسي.
(ج) الحدودية ذات البُعد السياسي. (د) العسكرية ذات البُعد السياسي.

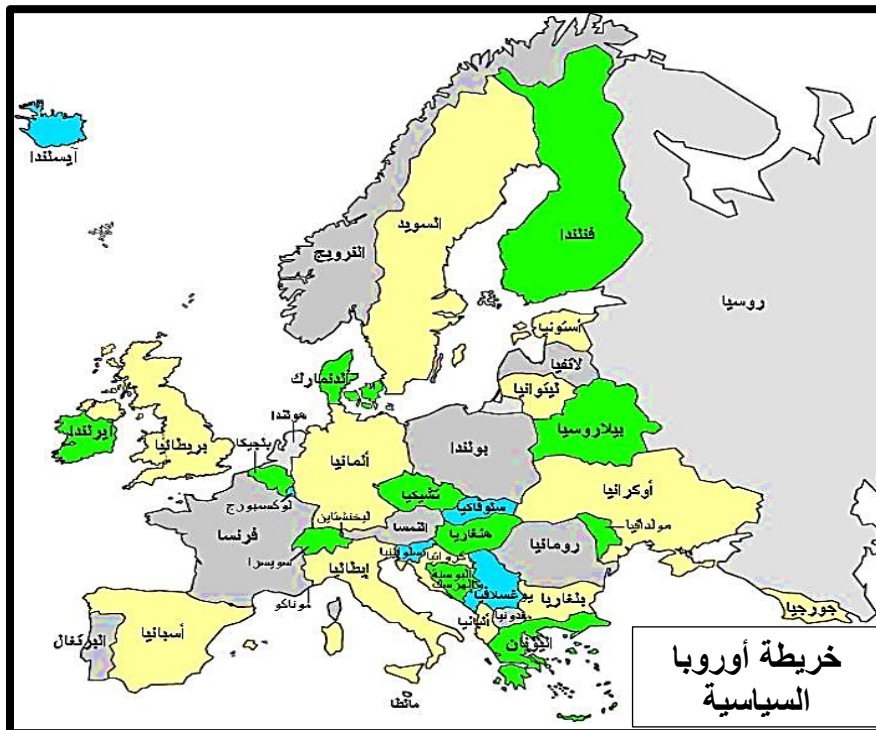
٢٩ - "للتقنيات الحديثة أثر إيجابي وآخر سلبي بالنسبة لوظيفة الأمانة للحدود السياسية؟". فسر ذلك

.....

.....

.....

٣٠- كان لتطور البنية التحتية في أوروبا أثره في نشأة الحدود السياسية وظهر ذلك في



- (أ) شمال الدنمارك.
(ب) شمال النمسا.
(ج) غرب النرويج.
(د) غرب فرنسا.



اختبار تجريبي الجغرافيا الصف الثالث الثانوي



٣١ - العالم الذي تناول أحد أبعاد المشكلة السكانية هو.....

- (أ) كيلين
(ب) بن خلدون
(ج) راتزل
(د) ارسطو

٣٢ - القاسم المشترك بين جميع التكتلات الاقتصادية هو.....

- (أ) اختلاف النظم السياسية لدول التكتل.
(ب) الاتصال الأرضي لدول التكتل.
(ج) القوة المورفولوجية لدول التكتل.
(د) القوة الديموغرافية لدول التكتل.

٣٣ - "ساهمت الجغرافيا السياسية في اقتراح حلول للعديد من المشكلات السياسية". في ضوء هذه العبارة استنتج أكثر الدول التي استفادت من العبارة السابقة، هي دولة.....

- (أ) بولندا
(ب) نيجيريا
(ج) منغوليا
(د) بيرو

٣٤ - المقومات التي تؤكد أحقية المغرب في مدينتي سبته ومليلة.....

- (أ) التاريخية والجغرافية
(ب) الديموغرافية والاثنوغرافية
(ج) الجغرافية والاثنوغرافية
(د) الديموغرافية والتاريخية

٣٥ - العامل الذي جعل القوى الإستعمارية تتمسك بالبقاء في غرب البحر المتوسط.....

- (أ) الموقع المركزي
(ب) الموارد الطبيعية
(ج) الموقع الاستراتيجي
(د) المناخ المعتدل

٣٦ - أقل أنواع الأقليات انتشارًا في العالم.....

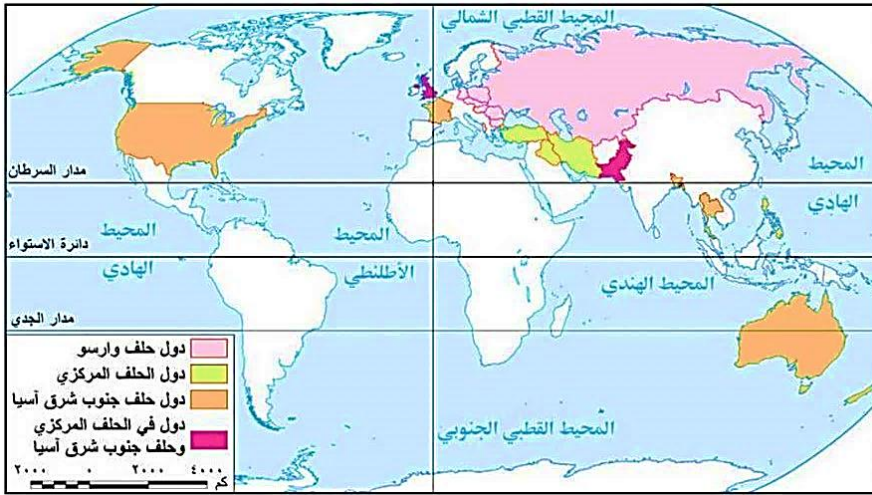
- (أ) المورفولوجي.
(ب) الحضاري.
(ج) الايديولوجي.
(د) الاقتصادي.

٣٧ - "تساعد التكتلات الاقتصادية والأحلاف العسكرية في تخفيف آثار الكوارث الطبيعية التي قد تتعرض لها الدول الأعضاء" في ضوء العبارة استنتج الجهة التي يجب عليها تقديم الدعم لتركيا إثر زلزال ٦ فبراير ٢٠٢٣م، هي:.....

- (أ) الإيبك.
(ب) حلف الناتو.
(ج) جامعة الدول العربية.
(د) الاتحاد الأوروبي.

٣٨- في ضوء دراستك للتكتلات الاقتصادية، تستطيع لبيبا أن تستقطب عمالة ماهرة دون الإخلال بالتجانس الاثنوغرافي بها من دولة.....
(أ) الكونغو الديمقراطية.
(ب) اثيوبيا.
(ج) مصر.
(د) كينيا.

٣٩- دولة تنتمي لحلف عسكري ويخترقها دائرة عرض ٣٠/٣٣ شمالاً هي.....



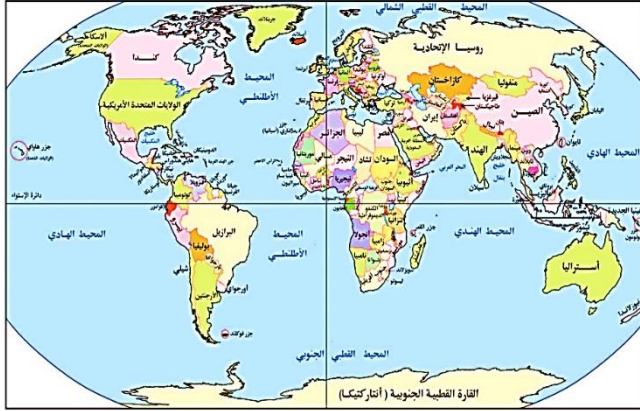
(أ) الولايات المتحدة الأمريكية
(ب) إيران
(ج) بنجلاديش
(د) استراليا

٤٠ - من أهم العوامل التي تساعد على تحقيق الامتزاج الثقافي داخل الدولة.....
(أ) المناخ والجبال.
(ب) السهول واللغة.
(ج) الجبال والبنية التحتية.
(د) الغابات والشكل المندمج.

٤١ - "موقع الأقلية وشكل الدولة من العوامل التي تساعد على زيادة قوة الأقلية وقد يؤثر على استقرار الدولة". الأقلية التي تنطبق عليها تلك العبارة هي.....
(أ) الزوج بالولايات المتحدة الأمريكية.
(ب) الباسك في إسبانيا.
(ج) الأكراد في سوريا.
(د) تيمور الشرقية في إندونيسيا.

٤٢ - "أجريت انتخابات في مصر عام ١٩٢٣م فاز فيها حزب الوفد برئاسة سعد زغلول والذي شكل الحكومة"، في ضوء هذه العبارة استنتج نظام الحكم السائد في تلك الفترة، هو.....
(أ) برلماني.
(ب) رئاسي.
(ج) جمهوري.
(د) شبه رئاسي.

٤٣ – ادرس الخريطين جيداً ثم استنتج:
أكثر الحدود السياسية استقراراً على مر العصور تظهر في الربع



خريطة (١٠٠٢) : خريطة العالم السياسية عام ٢٠١٥م



خريطة (٩٠٢) : خريطة العالم السياسية قبل الحرب العالمية الأولى

- (أ) الشمالي الشرقي.
(ب) الشمالي الغربي.
(ج) الجنوبي الشرقي.
(د) الجنوبي الغربي.

٤٤ – النظام السياسي في صورته المؤسسية يظهر في

- (أ) متابعة الأحوال الصحية.
(ب) التصديق على المعاهدات الدولية.
(ج) التوسع في انشاء المدارس والجامعات.
(د) الاهتمام بتطوير البنية التحتية.

٤٥ – "صوتك أمانة فاحرص دائماً على المشاركة في الانتخابات على كافة المستويات".

في ضوء العبارة السابقة فإن التطبيق العملي لتلك العبارة يظهر في

- (أ) إعلان الفائزين.
(ب) الترشح للانتخابات.
(ج) تقسيم الدوائر.
(د) إجراء الانتخابات.

٤٦ – ما العلاقة بين الحروب العالمية ونشأة المنظمات الدولية؟

.....
.....
.....

٤٧ – وضع العلامات الحدودية على طول الحدود السياسية يعبر عن أحد وظائف الحدود، وهي.....

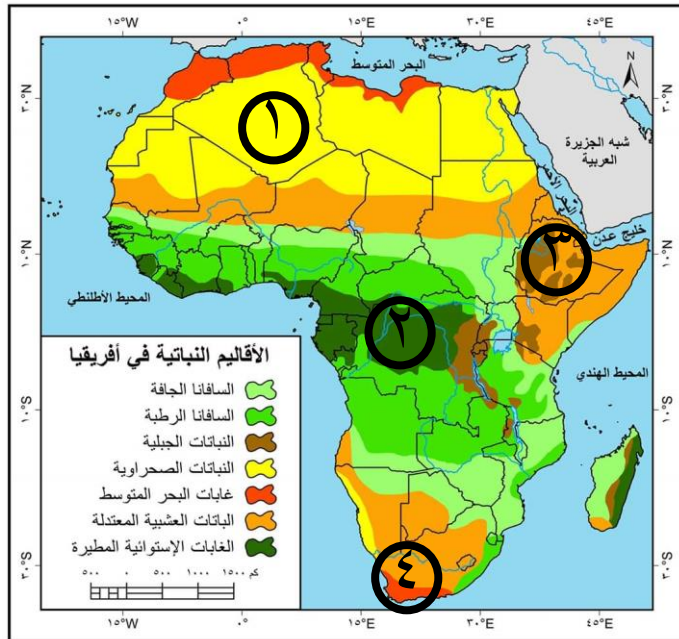
- (أ) السياسية والقانونية.
(ب) الحماية والأمن.
(ج) الحماية الاقتصادية.
(د) الفصل بين الدول.

٤٨ – كان النزاع بين دولتي السودان وتشاد يصنف ضمن المشكلات.....

(أ) الحدودية السياسية.
(ب) الاجتماعية السياسية.
(ج) الاقتصادية السياسية.
(د) الاقتصادية الاجتماعية.

٤٩ – الدول التي استفادت من تدويل مشكلاتها الاقتصادية ذات البعد السياسي تقع

(أ) شمال البحر الكاريبي.
(ب) غرب البحر الأدرياتي.
(ج) جنوب البحر المتوسط.
(د) شرق البحر الأحمر.



٥٠ – ادرس الخريطة المقابلة ثم استنتج:

المناطق التي تتوقع أن تضم المادة الخام اللازمة لصناعة إطارات السيارات

.....

- (أ) ١
(ب) ٢
(ج) ٣
(د) ٤